

Escola \_\_\_\_\_ Data: \_\_\_\_ / \_\_\_\_ / \_\_\_\_

Prof: \_\_\_\_\_ Turma: \_\_\_\_\_

Nome: \_\_\_\_\_

### AVALIAÇÃO DE MATEMÁTICA

OBSERVE O CALENDÁRIO DO MÊS DE JULHO E VEJA QUE AS LETRAS INDICAM OS DIAS DA SEMANA E OS NÚMEROS INDICAM OS DIAS DO MÊS:

D	S	T	Q	Q	S	S
				1	2	3
4	5	6	7	8	9	10
11	12	13	14	15	16	17
18	19	20	21	22	23	24
25	26	27	28	29	30	31

1-QUANTOS DIAS TEM O MÊS DE JULHO? \_\_\_\_\_

2-QUANTO DO MÊS SERÁ O ÚLTIMO SÁBADO DE JULHO? \_\_\_\_\_

3-QUE DIA DA SEMANA É HOJE? \_\_\_\_\_

4-OBSERVE O QUADRO ABAIXO E COMPLETE A SEQUENCIA:

0			3			6			
10		12		14			17		
	21				25			28	
30									

5-CIRCULE O RATO MAIS ALTO:




6-COLORIR A BORBOLETA QUE ESTÁ MAIS PRÓXIMA DAS FLORES:

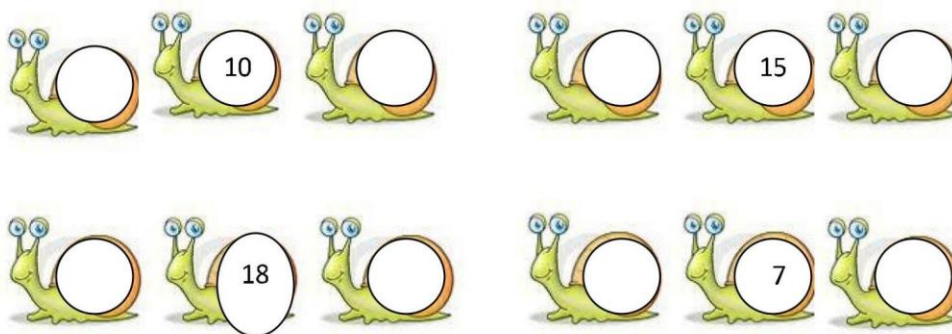


Nome: \_\_\_\_\_

### AVALIAÇÃO DE MATEMÁTICA



7-DÊ O ANTECESSOR E O SUCESSOR DOS NÚMEROS:



RESOLVA:

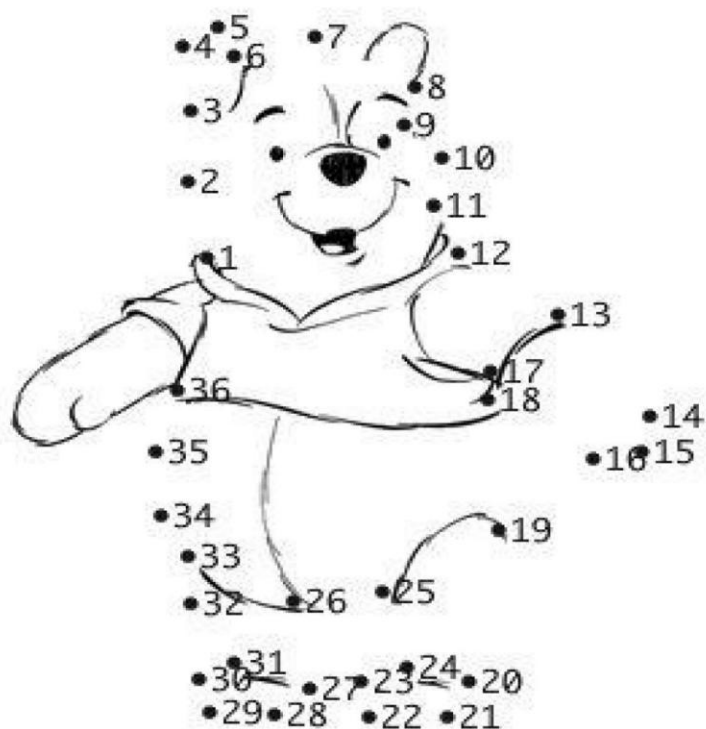
8- PAULA COMPROU 3 MAÇÃS E TATIANA COMPROU 2 LARANJAS. QUANTAS FRUTAS ELAS COMPRARAM AO TODO? \_\_\_\_\_

9-DANILO TINHA 9 BANANAS E DEU 4 PARA O SEU COLEGA PEDRO. COM QUANTAS BANANAS DANILO FICOU? \_\_\_\_\_

Nome: \_\_\_\_\_

### AVALIAÇÃO DE MATEMÁTICA

10-LIGUE OS PONTOS DO NÚMERO 1 ATÉ O NÚMERO 36:



11-ESCREVA O NOME DOS NÚMEROS:

0- \_\_\_\_\_

6- \_\_\_\_\_

1- \_\_\_\_\_

7- \_\_\_\_\_

2- \_\_\_\_\_

8- \_\_\_\_\_

3- \_\_\_\_\_

9- \_\_\_\_\_

4- \_\_\_\_\_

10- \_\_\_\_\_

5- \_\_\_\_\_



JESUS, ABENÇOE  
CADA CRIANÇA DESTA  
ESCOLA.